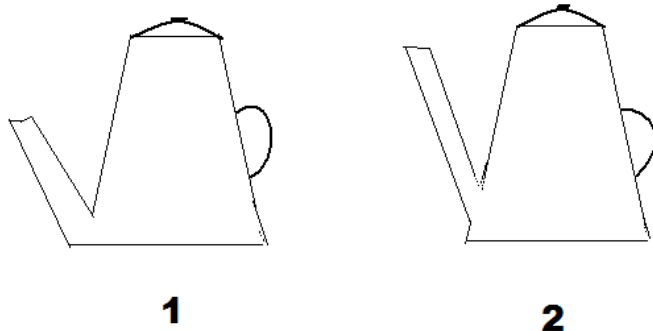
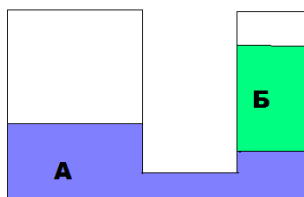


Самостоятельная работа «Сообщающиеся сосуды»

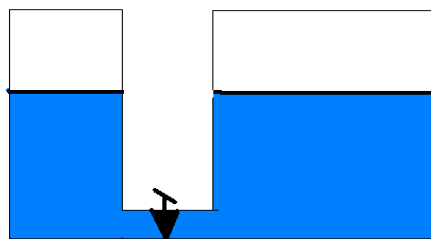
1. Какой из кофейников вмещает больше жидкости? Выберите правильное утверждение.
А-Кофейник 1. Б-Кофейник 2. В-Оба кофейника вмещают одинаковое количество жидкости.



2. В одно колено сообщающихся сосудов налита ртуть, а в другое вода. Какая жидкость является ртутью? Выберите правильное утверждение.
А - Жидкость А. Б - Жидкость Б.



3. Два сосуда наполнили водой. Будет ли вода переливаться из одного сосуда в другой, если открыть кран? Ответ поясните.



3. В сообщающихся сосудах находятся вода и керосин. Чему равна высота столба керосина, если высота столба воды 16см?